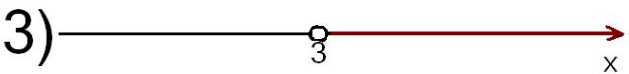
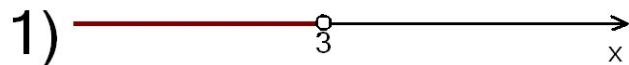



НЕВЕРНО !

Задание 1

Промежуток $x > 3$ изображён
на рисунке



Выбери задание:



ПОВТОРИТЬ

ЗАКРЫТЬ

1

2

3

4