





- В каких ячейках сумма длительностей нот равняется половинной ноте с точкой – найди 3 правильных ответа.
(Щелкайте по цветной кнопке, а не по рисунку)



исправить

ответ готов!