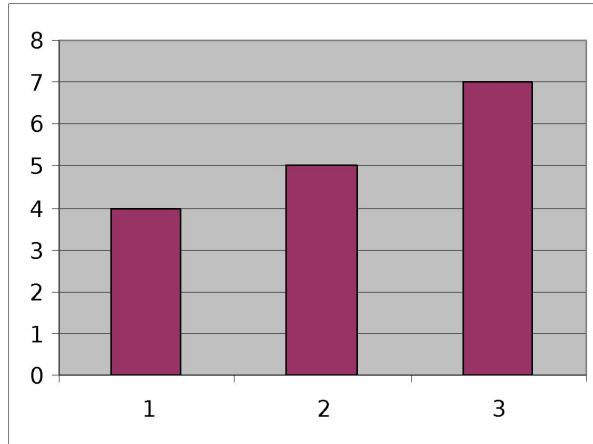
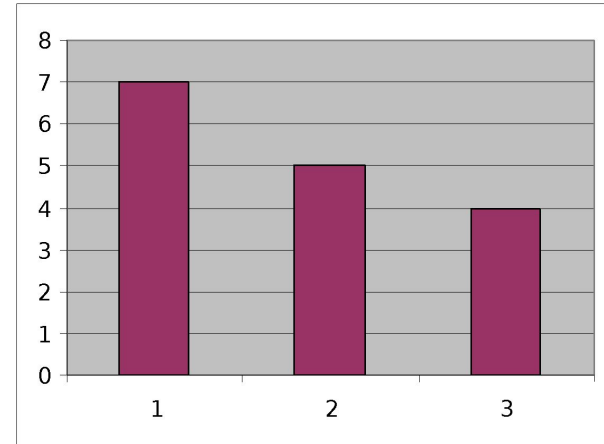


**Результаты опроса учеников из таблицы 1 можно представить графически в виде диаграммы. (Диаграмма – это чертёж, на котором числа изображаются столбиками соответствующего размера.) На приведённых ниже диаграммах 1-4 под каждым столбиком указан номер, соответствующий названию вида спорта. Высота каждого столбика соответствует числу учеников, которым нравится этот вид спорта. Какая диаграмма полностью соответствует таблице 1?**

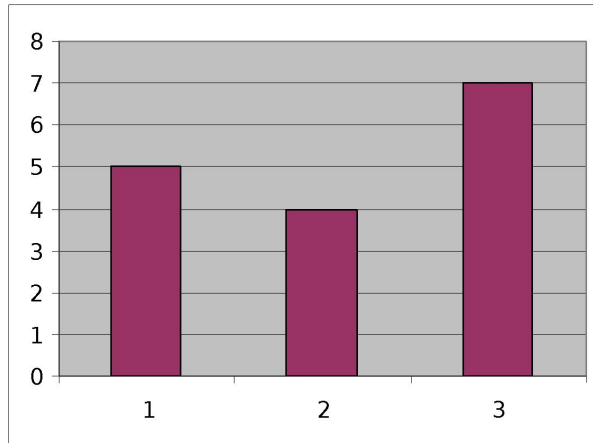
1)



2)



3)



4)

