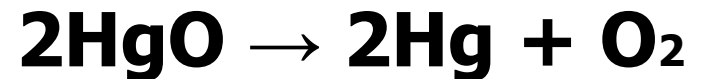

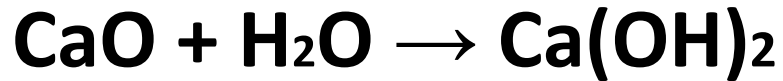


Можно ли выделить признак,
по которому возможно разделить
эти реакции на группы?



Различаются ли между
собой реакции одной группы?